


UNIVERSITÀ CA' FOSCARI DI VENEZIA
UNIVERSITÀ DEGLI STUDI DI PADOVA
UNIVERSITÀ DEGLI STUDI DI TRENTO
Test di accesso alla
FACOLTÀ DI ECONOMIA

NON STRAPPARE

L'INVOLUCRO DI PLASTICA PRIMA CHE VENGA
DATO IL SEGNALE DI INIZIO DELLA PROVA

Incollare sulla scheda delle risposte
il codice a barre sottostante:

Codice questionario



1 Completare la frase seguente con un aggettivo di grado superlativo assoluto: "Attraverso il microscopio è possibile vedere un mondo..."

- A** piccolino
- B** più piccolo
- C** meno grande
- D** piccolissimo

2 Individuare, tra le seguenti, la frase che contiene errori di grammatica.

- A** Per quanto l'argomento possa essere complicato, intendo spiegartelo per bene, affinché, se sarai interrogato, tu possa ben figurare
- B** Eccetto me e te, tutti sapevano la verità
- C** Da' a ciascuno quello che si merita
- D** Se la Patria chiama, ci risponderemo: "Sì"

3 Quale, tra i seguenti, è il comparativo di maggioranza di "grande"?

- A** Massimo
- B** Molto grande
- C** Grandissimo
- D** Maggiore

4 Individuare, tra le seguenti proposizioni, quella corretta.

- A** La nonna riposava all'ombra della veranda mentre i nipotini scorrazzavano in cortile
- B** Potresti portare il tuo sacco a pelo, cosiché io non sia di nuovo costretto a prestarti il mio
- C** Queste due tele sembrano eseguite dalla medesima mano: sono pressoché identiche!
- D** L'oratore si rivolse alla platea con fare allocutorio

5 Quale delle seguenti frasi contiene errori ortografici?

- A** Sono esterrefatto da come stai centellinando il vino a mo' di intenditore
- B** Con estrema efficienza è stato costruito un silos in quattro e quattr'otto
- C** Ho un'ora d'aspettare prima d'essere ricevuto dal governatore delle province equadregne
- D** La trascurataggine di quell'usciera non fa che gettare discredito e non dà certo un bell'esempio

6 Quale delle seguenti alternative NON è corretta dal punto di vista grammaticale?

- A** Agli uomini di quel tempo, dato che non erano sapienti come voi giovani, bastava nella loro semplicità ascoltare una cuercia o un sasso, purché dicessero il vero
- B** Si potrebbe dire che, più di ogni altra, la poesia istituzionale porta con sé una dimensione allegorica: dice sempre qualcosa pur rimandando anche ad altro, che va colto nella specificità del singolo componimento o in un gruppo di poesie
- C** La lepre maschio è più grossa della lepre femmina
- D** Più che un semplice settore dell'attività economica, l'editoria è uno specifico comparto, lo studio del quale deve essere messo in prospettiva con la storia della letteratura e delle idee, quegli elementi del dibattito culturale che hanno avuto una forte influenza sui suoi attori

7 Individuare la frase che NON contiene un pronome indefinito.

- A** A nessuno sarebbe piaciuta una camicia di questo colore
- B** Ha telefonato un tale che ti cercava
- C** In casa c'erano sempre pochi soldi
- D** In classe eravamo rimasti in pochi

8 Nella frase "Sandra era una ragazza orgogliosa che non sopportava di fare brutte figure come queste", quale tra i seguenti termini è il pronome relativo?

- A** era
- B** queste
- C** che
- D** una

9 Nella frase "Le mie opinioni circa questo argomento sono diverse dalle tue", "tue" è un:

- A** aggettivo dimostrativo
- B** pronome possessivo
- C** aggettivo possessivo
- D** pronome personale

10 Individuare la persona, il tempo e il modo corretti della forma verbale "avrebbero individuato".

- A** Terza persona plurale, condizionale passato
- B** Seconda persona plurale, congiuntivo passato
- C** Terza persona plurale, congiuntivo trapassato
- D** Terza persona plurale, indicativo passato remoto

11 Individuare la proposizione oggettiva nel periodo seguente: "Tornato in patria, l'ambasciatore fu sollecitato a dichiarare che l'incidente diplomatico era stato frutto di un equivoco".

- A** a dichiarare
- B** Tornato in patria
- C** l'ambasciatore fu sollecitato
- D** che l'incidente diplomatico era stato frutto di un equivoco

12 Si identifichi, tra i termini proposti, quello che svolge la funzione di aggettivo nel periodo seguente: "Detesto trovarmi in situazioni simili senza poter fare nulla per uscirne".

- A** nulla
- B** situazioni
- C** senza
- D** simili

13 In quale frase tra le seguenti il vocabolo "che" svolge la funzione di soggetto?

- A** Aiutati che il ciel t'aiuta
- B** Fate quel che dico, non quel che faccio
- C** A nemico che fugge ponti d'oro
- D** Meglio soli che male accompagnati

14 Individuare, tra le alternative proposte, quella che completa correttamente la frase seguente.

“Carlo ... spesso a sciare”.

- A** va a
- B** va’
- C** v`a
- D** va

15 Individuare quale delle seguenti frasi contiene un predicato nominale.

- A** Sono andato a trovare mia nonna il mese scorso
- B** Antonio è ritornato da Parigi
- C** Quando sei stato a Londra?
- D** Luisa è una ragazza scrupolosissima

16 Facendo riferimento al BRANO 2 riportato in fondo al questionario, rispondere al seguente quesito.

Il progetto di Costituzione europea avrebbe dovuto essere:

- A** approvato dal Parlamento europeo e ratificato dagli Stati membri
- B** proposto dal Governo dell’Unione, responsabile di fronte al Parlamento europeo
- C** approvato previamente dagli organi competenti degli Stati membri
- D** approvato dal Parlamento europeo e sottoposto a referendum consultivo

17 Facendo riferimento al BRANO 2 riportato in fondo al questionario, rispondere al seguente quesito.

L’opinione dell’autore dell’articolo è che:

- A** il referendum sulla Costituzione europea non ha nessuna importanza
- B** il referendum sulla Costituzione europea, pur essendo di indirizzo, ha dato risultati che tutt’ora appaiono significativi
- C** il referendum sulla Costituzione europea ha visto un afflusso alle urne troppo scarso per essere rilevante
- D** tutti si ricordano bene del referendum sulla Costituzione europea

18 Facendo riferimento al BRANO 2 riportato in fondo al questionario, rispondere al seguente quesito.

Secondo l’autore dell’articolo:

- A** la modernizzazione dell’Italia è avvenuta a prescindere dall’Europa
- B** la modernizzazione dell’Italia è ancora tutta da realizzare
- C** per l’Italia il risanamento di bilancio è l’unico risultato importante che deriva dall’integrazione europea
- D** l’integrazione europea ha spinto l’Italia a modernizzarsi in molti ambiti connessi all’economia e all’intervento pubblico

19 Facendo riferimento al BRANO 2 riportato in fondo al questionario, rispondere al seguente quesito.

Quale delle seguenti alternative riassume correttamente l’opinione di Ida Magli?

- A** L’Unione europea non è un potere straniero
- B** L’integrazione europea è un bene e l’art. 117, nella sua nuova versione, va mantenuto
- C** Se ci si vincola al rispetto dell’ordinamento comunitario, ciò equivale a dire che lo Stato italiano rinuncia a una parte della propria sovranità
- D** È del tutto corretto che la nuova versione dell’art. 117 della Costituzione italiana vincoli la legislazione italiana statale e regionale all’ordinamento comunitario

20 Facendo riferimento al BRANO 2 riportato in fondo al questionario, rispondere al seguente quesito.

La gran parte degli italiani, secondo l’autore dell’articolo:

- A** ha dimostrato di essere europeista il 18 giugno 1989
- B** teme un rafforzamento delle istituzioni comunitarie
- C** si oppone alle liberalizzazioni e alle privatizzazioni
- D** è indifferente alle tematiche europee

21 Facendo riferimento al BRANO 1 riportato in fondo al questionario, rispondere al seguente quesito.

L’argomento principale del brano è:

- A** il rapporto tra le decisioni di consumo delle famiglie e la loro percezione del futuro
- B** la crisi dell’economia russa
- C** la possibile recessione dell’economia a livello mondiale
- D** l’analisi delle conseguenze della caduta dei titoli azionari negli Stati Uniti

22 Facendo riferimento al BRANO 1 riportato in fondo al questionario, rispondere al seguente quesito.

In base a quanto scritto nel brano, una percezione negativa in merito al futuro influisce:

- A** negativamente sul livello di reddito delle famiglie
- B** negativamente sul livello dei consumi delle famiglie
- C** positivamente sul livello di reddito delle famiglie
- D** positivamente sui consumi delle famiglie, incentivando al risparmio

23 Facendo riferimento al BRANO 1 riportato in fondo al questionario, rispondere al seguente quesito.

Secondo l’autore del brano, da quali dei seguenti fattori dipende il clima del mercato interno? a) Dalle decisioni di consumo delle famiglie b) Dalla disponibilità delle banche ad assumersi rischi c) Dalle decisioni di investimento delle imprese

- A** Dai soli fattori a) e b)
- B** Da tutti i fattori elencati
- C** Dai soli fattori a) e c)
- D** Dai soli fattori b) e c)

24 Facendo riferimento al BRANO 1 riportato in fondo al questionario, rispondere al seguente quesito. Secondo quanto sostenuto nel brano, quale dei seguenti fattori influenza direttamente le decisioni di investimento delle imprese?

- A** La disponibilità al credito delle banche
- B** La crisi dell'economia russa
- C** L'inflazione
- D** Nessuna delle altre risposte è corretta

25 Facendo riferimento al BRANO 1 riportato in fondo al questionario, rispondere al seguente quesito. Secondo l'autore del brano, quali dei seguenti fattori sono correlati alla recessione? a) La riduzione delle importazioni dei Paesi russi, asiatici e latino-americani b) Il livello di reddito delle famiglie c) La caduta dei titoli azionari d) La diminuzione degli investimenti delle imprese

- A** I soli fattori a) e d)
- B** I soli fattori a), b) e c)
- C** Tutti i fattori elencati
- D** Nessuna delle alternative proposte: la responsabilità di un'eventuale e improvvisa recessione è da addebitare ai giganteschi movimenti di capitale degli ultimi anni

26 Quale delle seguenti grandezze economiche NON veniva contemplata tra i criteri originariamente previsti dal Trattato di Maastricht per l'ingresso degli Stati membri nell'Unione Monetaria Europea (UME)?

- A** Il rapporto debito pubblico/PIL
- B** Il tasso di inflazione
- C** Il tasso di disoccupazione
- D** I tassi di interesse sui titoli a lungo termine emessi dal Tesoro

27 Nell'ambito della seconda guerra mondiale, cosa si intende per "Operazione Barbarossa"?

- A** L'invasione della Polonia da parte della Germania nazista
- B** L'invasione dell'URSS da parte delle forze dell'Asse
- C** L'assedio di Leningrado
- D** La battaglia di Stalingrado

28 A quale importante incarico internazionale è stato nominato il sudcoreano Ban Ki-moon a decorrere dal 1° gennaio 2007?

- A** Segretario generale della Lega Araba
- B** Segretario generale dell'ONU
- C** Presidente dell'OPEC
- D** Presidente della FAO

29 Nel 2009 Barak Obama ha annunciato la fusione tra FIAT e un'importante casa automobilistica americana. Quale?

- A** General Motors
- B** Ford
- C** Chrysler
- D** Cadillac

30 Il 9 maggio a Bruxelles la Commissione Ecofin ha stabilito la creazione di un fondo di 550 miliardi di euro per evitare l'insolvenza di:

- A** Italia
- B** Spagna
- C** Romania
- D** Grecia

31 Chi era Yitzhak Rabin?

- A** Il Primo Ministro iraniano
- B** Il Primo Ministro israeliano
- C** Il Segretario dell'Organizzazione delle Nazioni Unite
- D** Il Presidente dell'Organizzazione per la Liberazione della Palestina

32 Chi è stato riconfermato per la seconda volta Presidente dell'Iran nel 2009?

- A** Hamid Karzai
- B** Mohammad Khātami
- C** Jalal Talabani
- D** Mahmud Ahmadinejad

33 Nella forma di governo parlamentare:

- A** il Governo gode della fiducia del Presidente della Repubblica
- B** il Parlamento gode della fiducia del corpo elettorale
- C** il Governo gode della fiducia del corpo elettorale
- D** il Governo gode della fiducia del Parlamento

34 Quale delle seguenti nazioni europee NON fa parte dell'Unione Europea allargata a ventisette membri?

- A** Ungheria
- B** Polonia
- C** Turchia
- D** Cipro

35 Chi guidò la politica estera statunitense nella prima metà degli anni Settanta?

- A** Warren Christopher
- B** Henry Kissinger
- C** George Bush
- D** Ted Kennedy

36 Dal sistema di equazioni $10x + 2y = 16$ e $0,5x + 0,1y = 4/5$, quante soluzioni si ricavano?

- A** Una
- B** Infinite
- C** Nessuna
- D** Due

37 $1/(2^{-1})$ è uguale a:

- A** $-1/2$
- B** 2
- C** $1/2$
- D** -2

38 Calcolare il minimo comune multiplo fra i seguenti monomi:

$2x^3y^2z$; $6x^2yz^3$; $10x^4y^5$; $30x^3z^3$.

- A** $2x^2yz$
- B** $30x^3y^2z$
- C** $30x^4y^5z^3$
- D** $2x^2$

39 A quale fra le seguenti proporzioni è equivalente la proporzione $a : b = c : d$?

- A** $(a + b) : b = (c - d) : d$
- B** $(a + b) : a = (c + d) : d$
- C** $(a + b) : b = (c + d) : c$
- D** $(a + b) : b = (c + d) : d$

40 Nella scomposizione in fattori primi, il numero 180 è:

- A** $2^2 \cdot 3^2 \cdot 5$
- B** $2 \cdot 3^2 \cdot 5$
- C** $2^3 \cdot 3^2 \cdot 5$
- D** $2 \cdot 3 \cdot 5^2$

41 L'equazione $x^4 - 2 = 0$ ammette nell'insieme dei numeri reali:

- A** nessuna soluzione
- B** 1 soluzione
- C** 2 soluzioni distinte
- D** 4 soluzioni

42 Se il $\log_b M = m$ e il $\log_b N = n$, il valore di $\log_b (M/N^k)$ vale:

- A** $m - kn$
- B** $M - kN$
- C** $M - N^k$
- D** $b^m/b^n + k$

43 Un supermercato, in un giorno particolare, pratica uno sconto del 15% su tutti i prezzi di listino. Sul prodotto X pratica un ulteriore sconto del 20%. Qual è lo sconto complessivo praticato sul prodotto X?

- A** 30%
- B** 17,5%
- C** 32%
- D** 35%

44 In un vaso ci sono 60 palline di tre diversi colori: rosse, gialle e blu. Qual è il numero minimo di palline che occorre estrarre per essere sicuri di averne 3 di uno stesso colore?

- A** 7
- B** 9
- C** 6
- D** 12

45 "Se Enrico è nato a Milano, allora è un cittadino italiano". Da quale delle seguenti affermazioni può essere certamente dedotta l'argomentazione precedente?

- A** I genitori di Enrico sono milanesi
- B** Tutti i cittadini italiani sono residenti in una città o provincia italiana
- C** Alcuni di coloro che sono nati a Milano sono cittadini italiani
- D** Tutti coloro che sono nati a Milano sono cittadini italiani

46 Tre operai riparano lo stesso oggetto rispettivamente in cinque, otto e dieci ore. Quanto tempo impiegano a riparare 17 oggetti se lavorano insieme?

- A** 20 ore
- B** 40 ore
- C** 60 ore
- D** 80 ore

47 Esprimere in grammi la quantità 3,8 quintali.

- A** 380.000 grammi
- B** 3.800 grammi
- C** 3.800.000 grammi
- D** 38.000 grammi

48 Quali sono le soluzioni dell'equazione $x^2 - x - 2 = 0$?

- A** $x = 1/4$ e $x = -1$
- B** $x = 2$ e $x = 3$
- C** $x = -1$ e $x = 2$
- D** $x = 1/2$ e $x = 4$

49 Di quale grado risulta il polinomio $(a + 1)(a - 1)(a + 2)$?

- A** Terzo
- B** Secondo
- C** Primo
- D** Quarto

50 La probabilità di ottenere un punteggio uguale a 7 con il lancio di due dadi è:

- A** $7/36$
- B** $1/6$
- C** $1/12$
- D** $1/3$

51 La moltiplicazione $78.428.623 \cdot 11.465.393$ vale:

- A** 899.214.985.143.838
- B** 899.214.985.143.839
- C** 899.214.985.143.830
- D** 899.214.985.143.831

52 Facendo riferimento alla FIGURA 4 riportata in fondo al questionario, rispondere al seguente quesito.

Nel seguente sistema le ruote dentate sono libere di ruotare attorno a un perno fisso. Se la ruota dentata B gira in senso antiorario, in quale senso gira la ruota dentata piccola F?

- A** In senso inverso rispetto alla ruota dentata D
- B** In senso antiorario
- C** Nello stesso senso della ruota dentata D
- D** Il sistema di ingranaggi non può funzionare

53 Individuare fra le seguenti l'espressione NON equivalente a 0,23.

- A 230/1.000
- B 0,230
- C 23/100
- D 23/1.000

54 La frazione algebrica $x^2 / (x - 2)$ è definita per:

- A ogni valore reale di x
- B $x \neq -2$
- C $x \neq 0$
- D $x \neq 2$

55 Quale delle seguenti funzioni gode della proprietà $f(x) = f(-x)$?

- A $f(x) = x^2 - 1$
- B $f(x) = \sin(2x)$
- C $f(x) = e^x$
- D $f(x) = x^3$

56 Un treno percorre 300 km alla velocità di 80 km/h, dopo di che percorre altri 200 km diminuendo la velocità di 1/4. In quanto tempo il treno arriva a destinazione?

- A 7 ore e 5 minuti
- B 6 ore e 55 minuti
- C 6 ore e 30 minuti
- D 8 ore e 15 minuti

57 Le soluzioni della disequazione $\log_{(1/2)}(3 - x) < \log_{(1/2)}(1/8)$ sono:

- A $x < 3$
- B $23/8 < x < 3$
- C $x > 23/8$
- D $x < 23/8$

58 Si consideri un triangolo rettangolo con un angolo acuto di 60°. Sapendo che il cateto maggiore misura 6 cm, quanto misura l'area del triangolo?

- A $36 / \sqrt{3} \text{ cm}^2$
- B $18 / \sqrt{3} \text{ cm}^2$
- C $18 \sqrt{3} \text{ cm}^2$
- D $36 \sqrt{3} \text{ cm}^2$

59 Le soluzioni della disequazione $(x^2 + 4) / (-5) > 0$ sono:

- A la disequazione non ammette soluzione
- B $x < -2, x > 2$
- C $-5/4 < x < 5/4$
- D la disequazione è verificata per ogni valore di x

60 L'ordinamento delle potenze $a = 3^{1/2}$ $b = 10^{1/4}$ $c = 5^{1/3}$ è:

- A $a < c < b$
- B $b < c < a$
- C $c < a < b$
- D $b < a < c$

61 L'espressione: $x^2 + y^2 - 1 - 2xy$ è riducibile a:

- A $(x - y - 1) \cdot (x + y + 1)$
- B $(x - y)^2 + 1$
- C $(x - y) \cdot (x + y) - 1$
- D $(x - y - 1) \cdot (x - y + 1)$

62 In un numero di due cifre, la cifra delle unità è il doppio di quella delle decine: scambiando l'ordine delle cifre si ottiene un secondo numero che supera di 18 il primo. Qual è il primo numero?

- A 36
- B 24
- C 48
- D 42

63 Qual è la corretta scomposizione del binomio $a^2 - b^2$?

- A Non è possibile scomporlo ulteriormente
- B $(a + b)(a - b)$
- C $a(a - b) - b(b + a)$
- D $(a - b)^2$

64 Un giorno, per caso, tutte le ragazze di una classe indossano scarpe nere, mentre tutti i ragazzi indossano scarpe bianche. Il totale degli alunni della classe è 25, e le ragazze sono 5 in più dei ragazzi. Quante scarpe nere ci sono in totale?

- A 15
- B 30
- C 10
- D 20

65 Quanto vale il Massimo Comune Divisore dei numeri 75, 15 e 45?

- A 15
- B 225
- C 3
- D 75

66 Se $a = 1/2$; $b = 0,1$; $c = \sqrt{2}$; $d = \text{Log } 0,1$ (dove il logaritmo è decimale), allora si conclude che:

- A $d < b < c < a$
- B $b < d < a < c$
- C $d < b < a < c$
- D $c < a < d < b$

67 Se a e b sono due numeri reali positivi, allora:

- A $\log(ab) = \log a / \log b$
- B $\log(ab) = \log a - \log b$
- C $\log(ab) = \log a + \log b$
- D $\log(ab) = \log a \cdot \log b$

68 Le soluzioni della disequazione $|2x - 5| < 1$ sono:

- A $x > 2$
- B $x < 3$
- C $2 < x < 3$
- D $x > 3$

69 La disequazione $-7x < -(3 + x)$ ha per soluzione:

- A $x > -1$
- B $x < 1$
- C $x > 1/2$
- D $x > 2$

70 Gli angoli si possono misurare in gradi sessagesimali e in radianti. A quanti radianti corrispondono 120° ?

- A $4\pi/5$
- B $3\pi/4$
- C $\pi/12$
- D $2\pi/3$

71 "Chi gioca a carte ama il rischio; amare il rischio è caratteristica essenziale di chi usa il paracadute; chi ama il volo usa il paracadute". Se le precedenti affermazioni sono vere, allora è certamente vero che:

- A chi ama il volo ama anche il rischio
- B alcune persone che giocano a carte usano il paracadute
- C tutti coloro che usano il paracadute amano il volo
- D chi ama il volo sicuramente non gioca a carte

72 Nel piano cartesiano il punto medio M del segmento avente per estremi i punti A(- 5; 2) e B (7; 2) ha coordinate:

- A (1; 1)
- B (6; 1)
- C (6; 2)
- D (1; 2)

73 Supponiamo di accettare la verità delle seguenti premesse: a) Se ci sono quaranta gradi, non è consigliabile uscire di casa; b) Ci sono quaranta gradi. Qual è la corretta conclusione da trarre da queste premesse?

- A È sempre consigliabile uscire di casa se si è in buona salute
- B È consigliabile uscire di casa solo se è fresco
- C Non è consigliabile uscire di casa
- D Occorre consultare le previsioni del tempo

74 Facendo riferimento al BRANO 3 riportato in fondo al questionario, rispondere al seguente quesito. Considerando solo le informazioni riportate nel testo da 1) a 4), è possibile affermare con certezza che:

- A Alberto ha realizzato la statua in marmo o in gesso
- B Luigi ha realizzato la statua raffigurante Venere
- C Giulia può aver realizzato la statua raffigurante Nettuno
- D la statua raffigurante Minerva è in legno o argilla

75 Facendo riferimento al BRANO 3 riportato in fondo al questionario, rispondere al seguente quesito. Considerando tutte le informazioni riportate nel testo, chi ha realizzato la statua in bronzo?

- A Alberto
- B Luigi
- C Giulia
- D Davide

76 Facendo riferimento al BRANO 3 riportato in fondo al questionario, rispondere al seguente quesito. Quale delle seguenti affermazioni NON può essere dedotta con certezza dall'esercizio?

- A Davide ha realizzato la statua raffigurante Minerva o quella raffigurante Bacco
- B Carla ha realizzato la statua raffigurante Minerva
- C Luigi ha realizzato la statua in marmo
- D Alberto ha realizzato la statua raffigurante Giove

77 Facendo riferimento al GRAFICO 5 riportato in fondo al questionario, rispondere al seguente quesito.

Tra il 1974 e il 1994, di quante unità è aumentato il numero di fumatori con età compresa tra i 25 e i 50 anni?

- A 2.000.000
- B 200.000
- C 1.050.000
- D 1.625.000

78 Facendo riferimento al GRAFICO 5 riportato in fondo al questionario, rispondere al seguente quesito.

Sulla base dei dati riportati nelle tabelle, quale delle seguenti affermazioni NON è corretta?

- A Nel 1994 più della metà dei fumatori avevano tra i 25 e i 50 anni
- B Nel 2004 il numero dei fumatori con meno di 25 anni è diminuito rispetto al 1994
- C Nel 1984 il numero delle donne fumatrici è aumentato rispetto al 1974
- D Il numero di fumatori con oltre 50 anni è in costante calo

79 Facendo riferimento al GRAFICO 5 riportato in fondo al questionario, rispondere al seguente quesito.

Quante erano le donne fumatrici in Italia nel 1994?

- A 1.250.000
- B 2.500.000
- C 3.125.000
- D 12.500.000

80 Facendo riferimento al GRAFICO 5 riportato in fondo al questionario, rispondere al seguente quesito.

In quali degli anni considerati il numero di fumatori con meno di 25 anni NON ha superato i 2 milioni di unità?

- A Nel 1974, nel 1984 e nel 1994
- B Solo nel 1974
- C Nel 1994 e nel 2004
- D Nel 1974 e nel 1984

I quesiti numerati da 81 a 82 sono quesiti di riserva:
si dovrà rispondere a essi solo se espressamente
comunicato dalla Commissione.

81 Quale, tra i seguenti, è un significato di
“morigerato”?

- A** Benefattore
- B** Moralmente discutibile
- C** Moderato nei desideri
- D** Di umile origine

82 Completare correttamente la seguente
successione numerica: 85; 104; 77; ?; ?; 87;
105; 124

- A** 98; 116
 - B** 95; 114
 - C** 104; 96
 - D** 91; 112
-

BRANO 1

Questo brano fa riferimento ad alcuni quesiti presenti nel questionario. Per ciascun quesito, il candidato deve scegliere, tra le alternative proposte, quella che ritiene corretta (una sola è corretta). Tale scelta deve essere operata soltanto in base alle informazioni contenute (esplicitamente o implicitamente) nel brano e non in base a quanto il candidato eventualmente conosca sull'argomento.

Gli analisti statunitensi sostenevano che i giganteschi movimenti di capitale degli ultimi anni si erano quasi completamente sganciati dall'economia reale. Allora perché la paura improvvisa di una recessione a livello mondiale? Una prima risposta è ovvia: la crisi dell'economia russa, asiatica e latino-americana ridurrà le importazioni di queste regioni, cosa che colpisce i Paesi esportatori. Ma non sarebbe il problema più grave. Le conseguenze più pesanti potrebbero venire dal peggioramento del clima del mercato interno. Le decisioni di consumo delle famiglie dipendono chiaramente dal livello del reddito, ma anche dalla percezione del futuro. Se tutti parlano di crisi, ci sarà la tendenza a risparmiare. Una tendenza rafforzata dalla caduta dei titoli azionari che, soprattutto negli Stati Uniti, costituiscono una parte rilevante del reddito delle famiglie. Effetti analoghi influenzano le decisioni di investimento delle imprese: con la crisi della borsa diventa più difficile reperire il capitale necessario. I piani di spesa vengono archiviati. In tempo di crisi le banche diventano più restie ad assumersi rischi e concedono più difficilmente finanziamenti, cosa che si ripercuote negativamente sulla produzione.

BRANO 2

Questo brano fa riferimento ad alcuni quesiti presenti nel questionario. Per ciascun quesito, il candidato deve scegliere, tra le alternative proposte, quella che ritiene corretta (una sola è corretta). Tale scelta deve essere operata soltanto in base alle informazioni contenute (esplicitamente o implicitamente) nel brano e non in base a quanto il candidato eventualmente conosca sull'argomento.

Italiani ed europei

È fin troppo facile prevedere che sulla revisione costituzionale per il federalismo si aprirà una battaglia politica. Anzi la battaglia è già iniziata con le polemiche che hanno accompagnato il voto finale alla Camera e al Senato.

Ma c'è un punto della revisione costituzionale che va al di là del tema strettamente federalistico e su cui si sono già appuntate critiche e commenti. Riguarda la nuova formulazione dell'art. 117 laddove si dice che "La potestà legislativa è esercitata dallo Stato e dalle Regioni nel rispetto della Costituzione, nonché dei vincoli derivanti dall'ordinamento comunitario e dagli obblighi internazionali". Sono proprio quei vincoli derivanti dall'ordinamento comunitario che hanno fatto parlare (per esempio Ida Magli su «Il Giornale» dell'11 marzo) di perdita italiana di sovranità a vantaggio di un potere straniero. Il problema quindi è l'Europa e già si vedono affiorare polemiche antieuropeiste basate anche sulle innegabili difficoltà e talvolta sulle contraddizioni che incontra il processo di unione.

Ci sono tuttavia due punti, anche per affrontare sul nascere queste polemiche, che meritano di essere sottolineati. Il primo è che l'Europa è stata decisiva, essenziale e determinante per far compiere all'Italia un cammino verso la modernità: il risanamento di bilancio (anche se ancora da completare), le liberalizzazioni, le privatizzazioni, l'apertura dei mercati, la riduzione dei tassi di interesse, l'abbattimento del tasso di inflazione sono stati tutti risultati che sono stati ottenuti solo grazie alla volontà italiana di partecipare all'Europa e alla sfida della moneta unica.

Il secondo è che il processo europeo è sempre stato un processo fortemente democratico, periodicamente sottoposto al vaglio dei parlamenti nazionali e che ha avuto in Italia una solenne ratifica in un referendum popolare.

“Ritenete voi che si debba procedere alla trasformazione delle Comunità europee in un’effettiva unione, dotata di un Governo responsabile di fronte al Parlamento, affidando allo stesso Parlamento europeo il mandato di redigere un progetto di Costituzione europea da sottoporre alla ratifica degli organi competenti degli Stati membri della Comunità?”. Questa la domanda che è stata rivolta, anche se forse pochi lo ricordano, il 18 giugno 1989 proprio in concomitanza con le elezioni per il Parlamento europeo, una domanda a cui 29 milioni di cittadini, pari all’88,1% dei votanti, hanno detto di sì. Si trattava di un referendum di indirizzo, quindi eminentemente consultivo, ma che comunque ha indicato come la larghissima maggioranza degli italiani era, e sicuramente rimane, schierata non solo per l’Europa, ma per un rafforzamento delle istituzioni comunitarie.

Questi due punti possono costituire un piccolo promemoria per quanti ritengono che si possa guadagnare qualche voto schierandosi contro l’Europa. Quello della Ue è un cammino che ha tanti difetti, ma non tali da far pentire la maggioranza degli italiani del loro spirito idealmente, ma fortemente europeista.

BRANO 3

Cinque giovani scultori frequentano un’Accademia. I loro nomi sono Alberto, Luigi, Carla, Davide e Giulia. Le loro statue raffigurano: Giove, Venere, Bacco, Nettuno e Minerva, non necessariamente in quest’ordine. Ognuno di loro utilizza uno solo dei seguenti materiali: marmo, argilla, gesso, bronzo e legno, non necessariamente in quest’ordine. Si sa inoltre che:

- 1) Carla ha realizzato una statua in legno;
- 2) Davide ha realizzato una statua in argilla;
- 3) la statua in gesso raffigura Venere;
- 4) un ragazzo ha realizzato una statua in bronzo che raffigura Giove;
- 5) Luigi ha realizzato una statua raffigurante Nettuno.

FIGURA 4

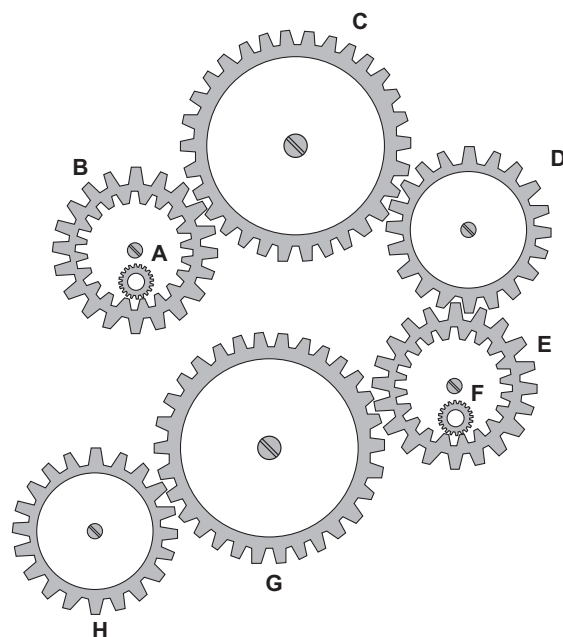
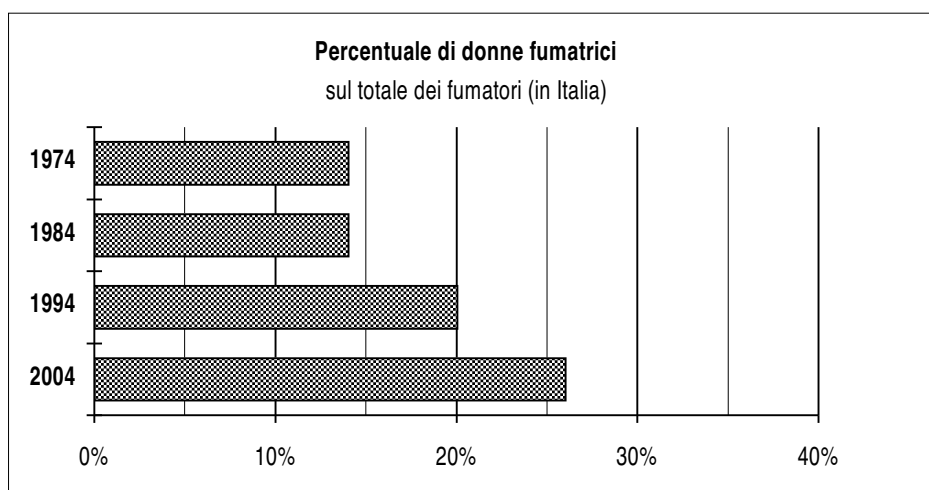


GRAFICO 5



Percentuale di donne fumatrici sul totale dei fumatori (in Italia)	
1974	14%
1984	14%
1994	20%
2004	26%

	N° Totale di fumatori (migliaia in Italia)	Età dei fumatori (suddivise per fasce)		
		Meno di 25 anni	Tra 25 e 50 anni	Oltre 50 anni
1974	10.500	10%	50%	40%
1984	10.900	15%	50%	35%
1994	12.500	25%	55%	20%
2004	11.200	35%	45%	20%